

بسمه تعالی

نام و نام خانوادگی:

مدرسه شهید غفاری

تاریخ: ۱۴۰۱/۰۳/۰۱


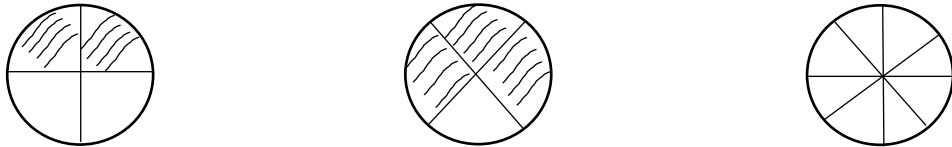
نام پدر:

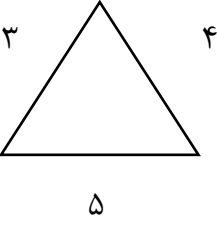

آزمون:

مدت زمان امتحان: دقیقه

نام معلم:

پایه:

ردیف	متن سؤالات	بارم
۱	الگوهای عددی زیر را ادامه دهید: ۲ - ۴ - ۶ - ۸ - - - ۵ - ۱۰ - ۱۵ - - -	
۲	ساعت‌های زیر چه زمانی را نشان می‌دهند؟ 	
۳	پاسخ ضرب‌های زیر را بنویسید: $2 \times 6 = \square$ $6 \times 3 = \square$ $6 \times 4 = \square$ $4 \times 7 = \square$ $7 \times 8 = \square$ $9 \times 9 = \square$	
۴	برای شکل‌های زیر کسر بنویسید: 	
۵	در دبیرستان دخترانه شهید افتخاری دانش آموزان دختر و پسر مشغول تحصیل هستند در کلاس اول ۵ دانش آموز دختر، در کلاس دوم ۱۵ دانش آموز دختر و در کلاس سوم ۲۰ دانش آموز دختر و در کلاس چهارم ۲۵ دانش آموز دختر وجود دارد، یک نمودار ستونی برای دانش آموزان دختر کلاس اول تا چهارم رسم کنید؟	
۶	جمع و تفریق‌های تکنیکی زیر را انجام دهید: $\begin{array}{r} 2 \quad 3 \quad 2 \quad 6 \\ + 6 \quad 7 \quad 4 \quad 5 \\ \hline \end{array}$ $\begin{array}{r} 5 \quad 6 \quad 4 \quad 3 \\ - 4 \quad 2 \quad 1 \quad 0 \\ \hline \end{array}$	

	<p>محیط شکل زیر را پیدا کنید:</p> 	۷
	<p>مساحت مستطیل زیر را پیدا کنید:</p> 	۸
	<p>تقسیم‌های زیر را انجام دهید:</p> $\begin{array}{r} 29 \\ \\ \hline \end{array} \quad \begin{array}{r} 7 \\ \\ \hline \end{array} \quad \begin{array}{r} 38 \\ \\ \hline \end{array} \quad \begin{array}{r} 5 \\ \\ \hline \end{array} \quad \begin{array}{r} 24 \\ \\ \hline \end{array} \quad \begin{array}{r} 6 \\ \\ \hline \end{array}$	۹
<p>موفق و پیروز باشید. جمع نمرات:</p>		حسن زاده