

بسمه تعالی

تاریخ امتحان: ۱۳۹۶/۰۳/

آزمون پایانی مداد کاغذی

نام و نام خانوادگی:

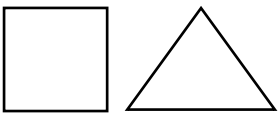


مدت زمان امتحان: دقیقه




نام پدر:

درس: ریاضی

نام آموزگار:

پایه: دوم ابتدایی

ردیف	متن سؤالات	بارم										
۱	با رقم و حروف بنویس: <table border="1" style="width: 100%; text-align: center;"> <tr> <td>۷۲</td> <td></td> <td>۹۱۶</td> <td></td> <td>۳۰۹</td> </tr> <tr> <td></td> <td>پانصد و هفده</td> <td></td> <td>هشتصد و چهار</td> <td></td> </tr> </table>	۷۲		۹۱۶		۳۰۹		پانصد و هفده		هشتصد و چهار		
۷۲		۹۱۶		۳۰۹								
	پانصد و هفده		هشتصد و چهار									
۲	برای عدد ۲۴۳ شکل بکش و جای خالی را پر کن: الف) با حروف: ..... ب) با رقم: ..... <table border="1" style="width: 100%; text-align: center;"> <tr> <td>صد تایی</td> <td>ده تایی</td> <td>یکی</td> </tr> <tr> <td> </td> <td> </td> <td> </td> </tr> </table>	صد تایی	ده تایی	یکی								
صد تایی	ده تایی	یکی										
۳	تفاوت‌ها و شباهت‌های دو شکل را بنویس: الف) تفاوت: ..... ب) شباهت: ..... 											
۴	اگر هر آدمک نماد ۵۰ نفر باشد، این شهر چند نفر جمعیت دارد؟ 											
۵	جواب جمع زیر را به صورت تقریبی بنویسید: <table style="width: 100%;"> <tr> <td style="text-align: right;">۴۶</td> <td style="text-align: center;">⇒</td> <td>.....</td> </tr> <tr> <td style="text-align: right;">+ ۲۱</td> <td style="text-align: center;">⇒</td> <td>+ .....</td> </tr> <tr> <td></td> <td></td> <td>.....</td> </tr> </table>	۴۶	⇒	.....	+ ۲۱	⇒	+ .....			.....		
۴۶	⇒	.....										
+ ۲۱	⇒	+ .....										
		.....										
۶	احتمال ایستادن عقربه روی کدام رنگ بیش‌تر است؟ چرا؟ 											
۷	علی ۸۷ شاخه گل خرید و برادرش ۵۶ شاخه گل خرید: آنها روی هم چند شاخه گل خریدند؟ _____ _____ _____ _____											

	<p>چند ریال است؟</p>  <p>..... ریال است.</p>	۸
	<p>رضا ۷۸ میز ساخت، او ۴۶ میز را فروخت: حالا رضا چند میز دارد؟</p> <p>-----</p>	۹
	<p>جمع و تفریق‌های زیر را انجام دهید؟</p> <p>..... <math>20 + 4 + 5 + 5 + 30 + 10 =</math> .....</p> <p>روش گسترده</p> $\begin{array}{r} 80 - 30 = \\ + 23 \end{array}$ <p>روش تکنیکی</p> $\begin{array}{r} 6 \quad 4 \quad 5 \quad 7 \quad 4 \quad 5 \\ - 2 \quad 9 \quad 3 \quad + 2 \quad 3 \quad 6 \\ \hline \end{array}$ <p>-----</p>	۱۰
	<p>با توجه به شکل در جای خالی عدد مناسب بنویس:</p>  <p>..... چهار تا می شود .....</p>	۱۱
	<p>ساعت زیر را بخوان و بنویس:</p>  <p>الف) ساعت ..... و ..... دقیقه است. ب) ..... دقیقه مانده است به ساعت .....</p>	۱۲
	<p>در جای خالی عدد مناسب بنویس:</p> <p>الف) ۶۸۱ برابر است با ..... یکی و ..... ده تایی و ..... صد تایی. ب) یک عدد سه رقمی بنویس که رقم‌های آن مثل هم باشد. پ) ..... قسمت از ..... پرچم ایران قرمز است. ت) هر ۱۵ دقیقه ..... قسمت از ..... قسمت ساعت است.</p>	۱۳
	<p>موفق و پیروز باشید.</p>	
	<p>جمع نمرات:</p>	

ردیف	انتظارات معلم	خیلی خوب	خوب	قابل قبول	نیاز به تلاش
۱	اعداد را با حروف و رقم می نویسد.				
۲	مسائل را به درستی حل می کند.				
۳	مفهوم کسر و احتمال را فهمیده است.				
۴	جمع و تفریق را به هر دو صورت انجام می دهد.				
۵	تفاوت و شباهت اشکال هندسی را تشخیص می دهد.				

نظر نهایی آموزگار: