

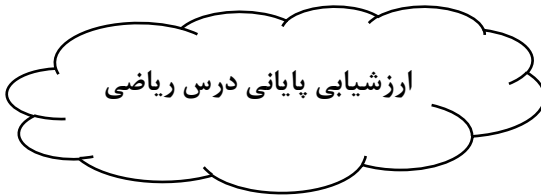
نام:

نام خانوادگی:

به نام خدا

تاریخ:

زمان: دقیقه



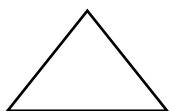
۱- همه عددهای دو رقمی را بنویسید که رقم یکان آنها ۴ و ۱ و رقم دهگان آنها ۸ و ۳ باشد.



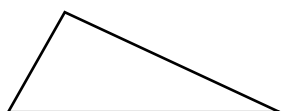
۲- دو شکل روبرو چه شباهت‌ها و تفاوت‌هایی دارند؟

الف) تفاوت:

ب) شباهت:



(۱)



(۲)


۳- شکل روبرو را به دو صورت دسته بندی کنید و جمله‌ها را کامل کنید؟

الف) تا می شود


ب) تا می شود



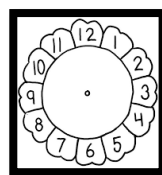
۴- ساعت‌های زیر را نشان بدهید؟



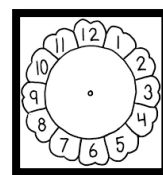
یک ربع بعد از ۱۱



۱:۲۵



نیم ساعت بعد از ۳



یک ربع مانده به ۵

۵- کامل کنید؟

$340 = \dots + \dots$

$700 + 20 + 5 = \dots$

$20 + 300 + 50 + 6 + 100 + 2 + 10 = \dots$

۶- جاهای خالی را کامل کنید؟

الف) ۲ سانتی متر و ۷ میلی متر میلی متر می شود.

ب) ۱۴۷ میلی متر سانتی متر و میلی متر است.

پ) ۷۵ به نزدیک تر است.

ت) ۳ دسته صد تایی و ۷ دسته ده تایی و ۶ یکی می شود

۷- جمع و تفریق‌های زیر را انجام دهید؟



$$\begin{array}{r} + 254 \\ 321 \\ \hline \end{array}$$

$$\begin{array}{r} - 737 \\ 224 \\ \hline \end{array}$$

$$\begin{array}{r} + 542 \\ 176 \\ \hline \end{array}$$

$$\begin{array}{r} - 160 \\ 437 \\ \hline \end{array}$$

۸- قدّ رضا ۱۶۹ سانتی متر است. قدّ خواهرش ۲۲ سانتی متر از او کوتاه‌تر است. قدّ این دو نفر روی هم

چند سانتی متر است؟

۹- یک مثلث رسم کرده و آن را به ۴ قسمت مساوی تقسیم کنید و ۳ قسمت آن را رنگ کنید؟
 الف) قسمت از قسمت مساوی رنگ شده است.
 ب) قسمت از قسمت مساوی رنگ نشده است.


۱۰- عددهای زوج را آبی و عددهای فرد را زرد رنگ بزنید؟



۱۱- در یک دبستان تعداد دانش آموزان کلاس اوّل تا ششم به صورت زیر است. اگر هر ۱۰ دانش آموز را با:

نشان بدهیم نمودار را کامل کنید؟ 😊

کلاس	اوّل	دوم	سوم	چهارم	پنجم	ششم
تعداد	۲۲	۳۵	۳۱	۴۳	۴۱	۴۶
تقریب						



ششم پنجم چهارم سوم دوم اوّل



دانشمندان کوچک و کنجکاو، خانم معلّم به شما افتخار می‌کند.
 فتحی